



PHỤ LỤC

MỘT SỐ CÂU HỎI MẪU TRONG ĐỀ THI TUYỂN SINH

Hình thức thi **TRẮC NGHIỆM** với đề thi gồm hai phần thi **KỸ NĂNG ĐỊNH LƯỢNG** và **TIẾNG ANH** (yêu cầu tương đương trình độ B). Mỗi phần thi kéo dài trong 60 phút.

Sau đây là mẫu một số **DẠNG** câu hỏi thi:

I. KỸ NĂNG ĐỊNH LƯỢNG

Anh chị hãy chọn và khoanh tròn vào A, B, C, D hoặc E cho phần trả lời đúng nhất của các câu sau:

1) Nếu $5y - 3x = 7$ và $6y + 6x = 2$ thì giá trị của y là:

- (A) 1
- (B) 2
- (C) 3
- (D) 4
- (E) 5

2) Thúy ra khỏi nhà với 60.000 đồng trong túi. Cô chi tiêu hết $\frac{1}{3}$ số tiền này ở siêu thị, và tiếp tục chi $\frac{1}{2}$ số tiền còn lại ở nhà thuốc. Nếu Thúy không chi thêm khoản nào khác thì lúc trở về nhà trong túi cô còn bao nhiêu tiền?

- (A) 10.000 đồng
- (B) 15.000 đồng
- (C) 20.000 đồng
- (D) 40.000 đồng
- (E) 50.000 đồng

Hướng dẫn: Câu hỏi sau đây có hai đại lượng, một đại lượng ở cột A và một ở cột B. Bạn phải so sánh hai đại lượng và chọn:

- A nếu đại lượng ở cột A lớn hơn
- B nếu đại lượng ở cột B lớn hơn
- C nếu hai đại lượng bằng nhau
- D nếu mối quan hệ không thể được xác định từ những thông tin đã cho

Cột A

Cột B

3) Giá của một chiếc áo len được giảm 25%

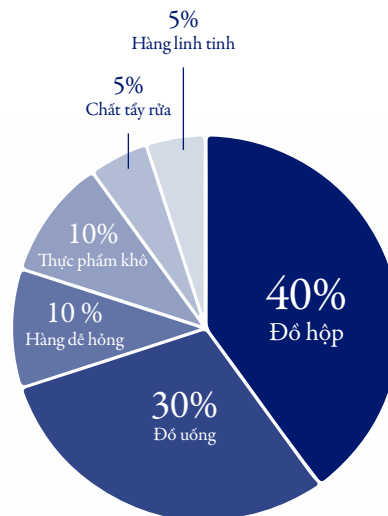
Giá của một chiếc áo khoác được giảm 20%

4) Số nhỏ nhất lớn hơn 12, có thể chia hết cho 12 nhưng không chia hết cho 8

48

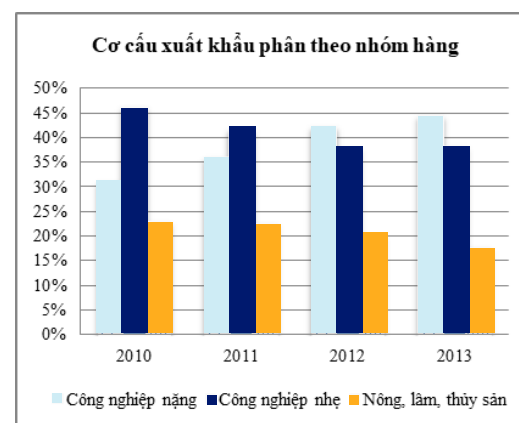
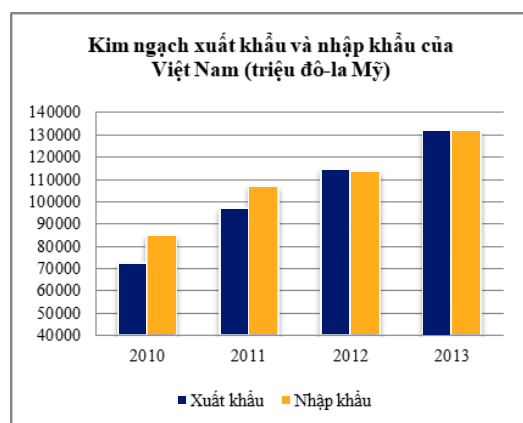
Thông tin dưới đây dùng cho câu 5 & 6

Tồn kho cửa hàng
(Tổng = 1.000.000 đồng)



- 5) Giá trị bằng tiền của số hàng hóa tồn kho gồm đồ hộp và hàng dễ hỏng cộng lại là:
- (A) 100 ngàn đồng
(B) 150 ngàn đồng
(C) 250 ngàn đồng
(D) 500 ngàn đồng
(E) 600 ngàn đồng
- 6) Giá trị bằng tiền của đồ uống lớn hơn bao nhiêu so với giá trị bằng tiền của thực phẩm khô?
- (A) 50 ngàn đồng
(B) 75 ngàn đồng
(C) 200 ngàn đồng
(D) 250 ngàn đồng
(E) 500 ngàn đồng

Hai đồ thị dưới đây được dùng cho các câu 7 – 10



Nguồn: Số liệu của Tổng cục Thống kê Việt Nam



- 7) Với các thông tin đã cho ở hai đồ thị trên, phát biểu nào sau đây KHÔNG đúng?
- (A) Giá trị xuất khẩu hàng nông, lâm, thủy sản giảm liên tục theo thời gian
 - (B) Tỷ trọng giá trị xuất khẩu hàng công nghiệp nặng tăng liên tục theo thời gian
 - (C) Tỷ trọng giá trị xuất khẩu hàng công nghiệp nhẹ giảm liên tục theo thời gian
 - (D) Giá trị xuất khẩu hàng công nghiệp nhẹ tăng theo thời gian
- 8) Trong năm 2010, giá trị xuất khẩu hàng công nghiệp nặng xấp xỉ bằng bao nhiêu?
- (A) 32,2 tỉ đô-la Mỹ
 - (B) 29,3 tỉ đô-la Mỹ
 - (C) 26,1 tỉ đô-la Mỹ
 - (D) 22,4 tỉ đô-la Mỹ
- 9) So với năm 2010, giá trị xuất khẩu hàng nông, lâm, thủy sản năm 2013 thay đổi xấp xỉ bằng bao nhiêu?
- (A) Tăng 0,9 tỉ đô-la Mỹ
 - (B) Giảm 4,6 tỉ đô-la Mỹ
 - (C) Tăng 6,7 tỉ đô-la Mỹ
 - (D) Giảm 1,2 tỉ đô-la Mỹ
- 10) Năm 2013, giá trị xuất khẩu hàng công nghiệp nhiều gấp bao nhiêu lần giá trị xuất khẩu hàng nông, lâm, thủy sản?
- (A) 3,6 lần
 - (B) 2,5 lần
 - (C) 1,2 lần
 - (D) 2,6 lần

II. TIẾNG ANH

Grammar

Fill in the blank

- 1) The best way, among others, to appreciate the relevance of economics _____ begin with the understanding of supply and demand.
- (A) is
 - (B) is to
 - (C) are to
 - (D) will
- 2) The fact that some benefits of indirectly productive projects are not quantifiable _____ the task of evaluating projects' economic viability more complicated.
- (A) has made
 - (B) have made
 - (C) makes
 - (D) will make



There are four underlined sections in the text below. Select the one which is wrong

3) The economy has entered a period of uncertainty and instability. While this situation is due largely from domestic factors, it is compounded by heightened volatility in the global economy.

- (A) of
- (B) while
- (C) from
- (D) by

4) In a recent book, "Asian Godfathers", Joe Studwell, a journalist, examines this failure in stark terms. The region's business scene, he says, remains dominate by old-fashioned, mediocre, sprawling conglomerates, run at the whims of ageing patriarchal owners. These firms' core competence, such as it is, is exploiting their cozy connections with governing elites.

- (A) examines
- (B) dominate
- (C) run
- (D) is exploiting

Reading

Infrastructure services are crucial for generating economic growth, alleviating poverty, and increasing international competitiveness. Safe water is essential for life and health. Reliable electricity saves businesses and consumers from having to invest in expensive backup systems. Widely available and affordable telecommunications and transportation services can foster entrepreneurship and so are critical to generating employment.

5) Which of the following statements cannot be supported by the above paragraph?

- (A) Infrastructure services play a very important role in improving standard of livings
- (B) With more support from infrastructure services, domestic firms can compete better in world markets.
- (C) Businesses and consumers have to save electricity to avoid having to invest in expensive backup systems
- (D) Good transportation services help create jobs

6) The word crucial in line 1 of the paragraph is closest in meaning to

- (A) cruel
- (B) trivial
- (C) good
- (D) important



To be counted as world-class, a firm needs to be more than just well run and large. It should have a globally valued brand, or its own leading-edge technology, or a genuinely innovative and admired business method. These are demanding standards: even some of those in BCG's top 100 are really just plain big. In South-East Asia few companies meet them. Some come close, especially in Singapore, the region's most advanced country. Singapore Airlines is the world's fourth-largest international carrier and is perhaps the region's best-known brand around the world.

7) According to the above paragraph, which of the following is true about a world-class firm?

- (A) Its profit grows rapidly
- (B) It has to be in BCG's top 100
- (C) It is able to purchase the latest technology
- (D) Its product is widely recognized

8) The word these in line 3 of the paragraph refers to

- (A) criteria of a world-class firm
- (B) countries in South-East Asia
- (C) companies in South-East Asia
- (D) companies in BCG's top 100